


## 达标测试卷

题号	一	二	三	四	五	六	总分
得分							

## 一、填一填。(56分)

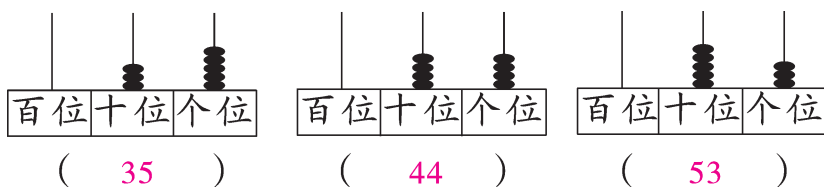
1. 圈一圈,数一数。



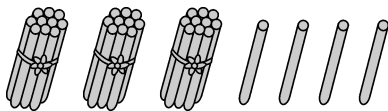
有( 37 )个。

2. 看图填一填。

(1)

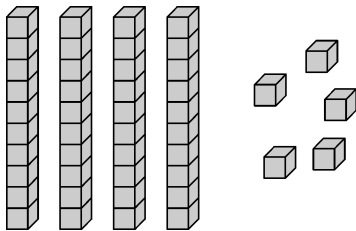


(2)



( 3 )个十和( 4 )个一合起来是( 34 )。

(3)



( 45 )里面有( 4 )个十和( 5 )个一。

3. 在计数器上,从右边起,第一位是( 个 )位,第( 二 )位是十位,第三位是( 百 )位。

4. 7个十是( 70 ),80里面有( 8 )个十,10个十是( 100 )。

5. 57 里面有( 5 )个十和( 7 )个一,69 里面有( 9 )个一和( 6 )个十。
6. 4 个十和 9 个一合起来是( 49 );再添上 1 是( 5 )个十,即( 50 )。
7. 个位上是 5,十位上是 4 的数是( 45 );十位上是( 8 ),个位上是( 2 )的数是 82。
8. 在 55 中,左边的“5”在( 十 )位上,表示( 5 )个( 十 );右边的“5”在( 个 )位上,表示( 5 )个( 一 )。
9. 70 比( 69 )大 1,比( 71 )小 1。
10. 找规律填数。
- (1) 22, 24, 26, 28, ( 30 ), ( 32 ), ( 34 )。
- (2) 100, 95, 90, 85, ( 80 ), ( 75 ), ( 70 )。
- (3) 22, 33, 44, ( 55 ), ( 66 ), 77, 88。
- (4) 19, 29, ( 39 ), ( 49 ), 59, ( 69 ), ( 79 )。

11. 根据百数表填一填。(10 分)

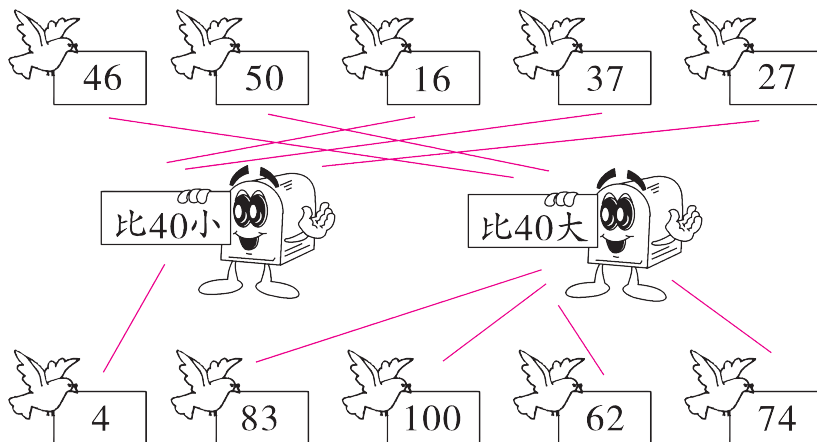
25	26	27
35	36	37
45	46	47

33	34	35
43	44	45
53	54	55









61	62	63
71	72	73
81	82	83

## 二、连一连。(共 14 分)



















1. 信鸽送信。(10 分)



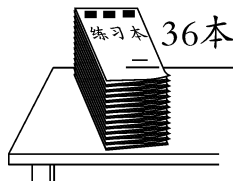
## 2. 小猪找兄弟。(4 分)

 我的个位上是2, 十位上是3。	 我是1个十。
 我是10个一。	 我是由2个一和3个十组成的。
 我是70的前一个整十数。	 100比我大1。
 我是最大的两位数。	 我比50多10。

## 三、比大小。(6 分)

 45   36	 63   48	 54   54
 94   100	 71   69	 23   32

## 四、选一选,在合适的答案下面画“√”。(9 分)

1.  36本

如果我们班每人发1本, 那么这些练习本还少一些。



我们班上可能有多少名学生?

14 名	34 名	42 名
		√

2. 

26棵

萝卜的数量比白菜多得多。



萝卜可能有多少个？

82 个	28 个	26 个	9 个	5 个
✓				

3.



我爸爸今年35岁。

兰兰

我爸爸今年的岁数和你爸爸差不多。

小刚



小刚的爸爸今年可能多少岁？

25 岁	34 岁	54 岁
	✓	

## 五、猜一猜。(9 分)

1.



我妈妈的年龄是个整十数，比40小，且比20大。

妈妈的年龄是( 30 )岁。

2.



我喜欢的两位数的十位上的数字比个位上的数字大3。

这个数可能是( 63, 30, 41, 52, 74, 85 或 96 )。

3.



我摘的桃子的个数的个位上是3，且比20大，比30小。我摘了( 23 )个桃子。

六、(趣味题)黑兔、白兔和灰兔 3 只兔子在赛跑。黑兔说：“我跑得不是最快的，但比白兔快。”请你猜一猜，谁跑得最快？谁跑得最慢？

(6 分)

【答案】灰兔跑得最快，白兔跑得最慢。